

# Väritystehtävä kertotauluista

• Laske.

• Väritä oikeilla väreillä.

10-20


21-30

31-40

41-50

51-60

61-70



# Vastaukset: Väriysteävä kertotauluista



# Kolmiossa on taikaa



## 1 Täydennä kolmio.

- Merkitse jokaiseen vasemmassa ja oikeassa reunassa olevaan kuusikulmioon luku 1.
- Merkitse loput luvut ylhäältä alaspäin siten, että jokainen uuden rivin luku on kahden sen yläpuolella olevan luvun summa.

## 2 Merkitse viivoille vaakarivillä olevien lukujen summa.

Päättele, mikä olisi yhdennelletoista riville tulevien lukujen summa. Merkitse se ruutuun kolmion alapuolelle.



## 3 Väritä kolmion ruudut.



Luku on parillinen.



Luku on pariton.



Yhdennelletoista rivillä olevien lukujen summa:



# Kolmiossa on taikaa vastaukset



## 1 Täydennä kolmio.

- Merkitse jokaiseen vasemmassa ja oikeassa reunassa olevaan kuusikulmioon luku 1.
- Merkitse loput luvut ylhäältä alaspäin siten, että jokainen uuden rivin luku on kahden sen yläpuolella olevan luvun summa.

## 2 Merkitse viivoille vaakarivillä olevien lukujen summa.

Päättele, mikä olisi yhdennelletoista riville tulevien lukujen summa. Merkitse se ruutuun kolmion alapuolelle.


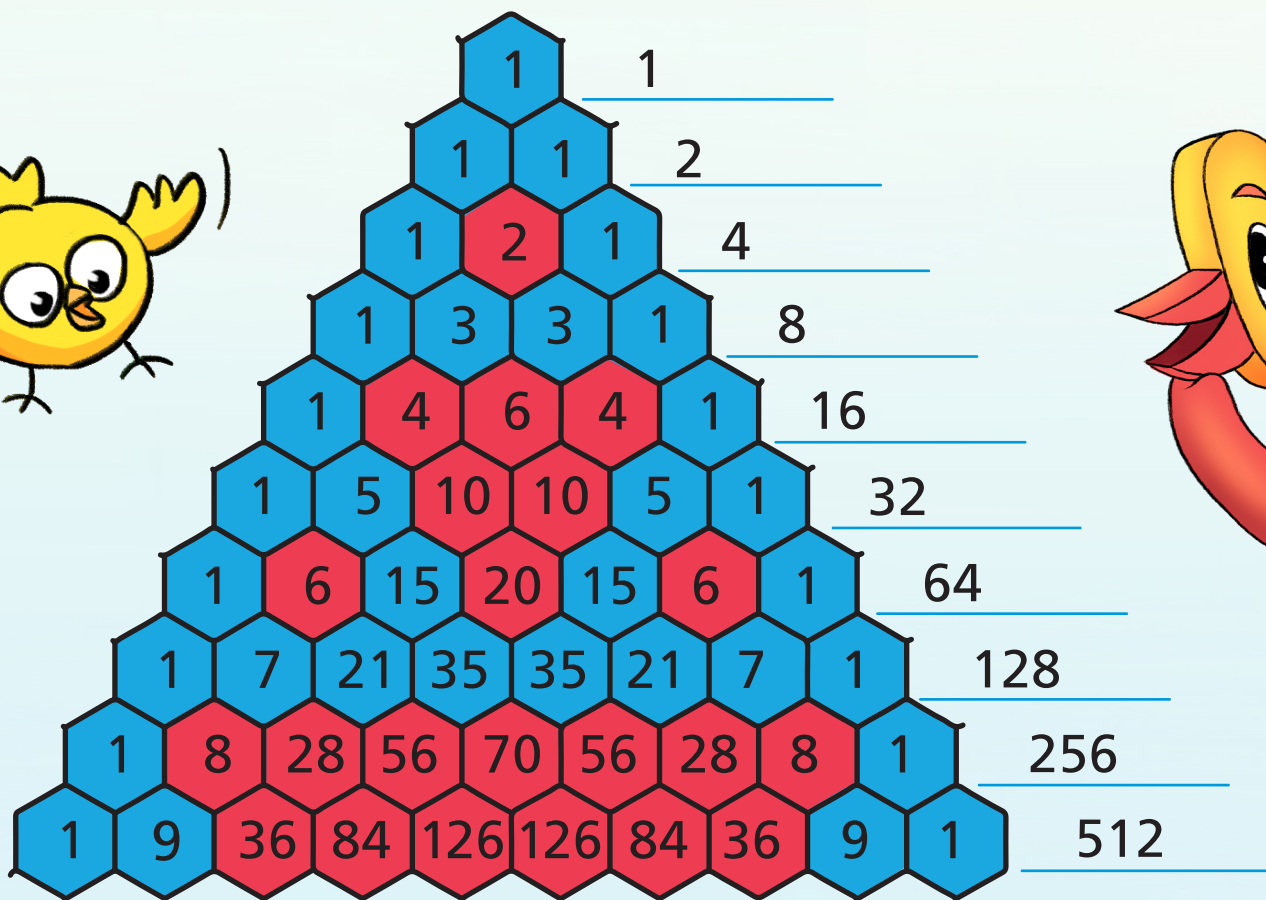
## 3 Väritä kolmion ruudut.



Luku on parillinen.



Luku on pariton.



Yhdennelletoista rivillä olevien lukujen summa:

1024

