


3. Tutki aakkosia. Ratkaise salakirjoitus.  
Nuoli antaa vihjeen.




A	B	C	D	E	F	G
H	I	J	K	L	M	N
O	P	Q	R	S	T	U
V	X	Y	Z	Å	Ä	Ö

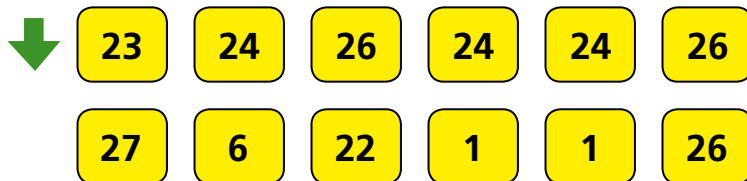
a.



b.




c.




### 31. Merkitse silmäluvut noppiin vihjeiden perusteella.


- a.**
- Silmälukujen summa on 5.
  - Suurin silmäluku on keskellä.
  - Nopissa ei ole silmälukua 2.




- b.**
- Silmälukujen tulo on 12.
  - Kahdessa nopassa on sama silmäluku.
  - Suurin silmäluku on vasemmalla.



- c.**
- Silmälukujen erotus on 0.
  - Silmälukujen tulo on 30.
  - Silmäluku kasvaa vasemmalta oikealle.
  - Silmälukujen summa on 12.



- d.**
- Kaikissa nopissa on eri silmäluku.
  - Suurin silmäluku on 4.
  - Silmälukujen tulo on 24.
  - Silmäluku pienenee vasemmalta oikealle.



- e.**
- Kaikissa nopissa on sama silmäluku.
  - Silmälukujen summa on suurempi kuin tulo.

